

Учебная ситуация 1

- 3 класс, математика
- Финансовая грамотность

Помоги бабушке сэкономить деньги: в таблице показана стоимость продуктов в магазине № 1 и в магазине № 2. Магазин № 1 находится рядом, а до магазина № 2 необходимо добираться на маршрутном такси. Стоимость проезда туда и обратно обойдётся в 86 рублей. Где ей выгоднее приобрести продукты?

Наименование продуктов	Магазин № 1	Магазин № 2
Яйца (1 десяток)	57 руб.	51 руб.
Капуста (1 кг)	18 руб.	18 руб.
Яблоки (1 кг)	76 руб.	54 руб.
Сахар (1 кг)	40 руб.	35 руб.
Молоко (1 л)	70 руб.	60 руб.
Всего		


Учебная ситуация 2:

- 2 класс, окружающий мир
- Естественно-научная грамотность

Помогите Коле распределить объекты на группы. Поставьте соответствующие цифры и дайте название каждой группе. Обоснуйте ответ.

1 группа


2 группа



Паук-крестовик



Клещ



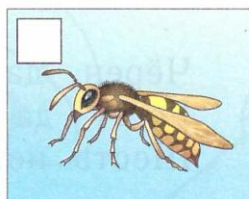
Богомол



Паук-птицеед




Муха



Оса



Скорпион



Бабочка

Учебная ситуация 3:

- 2 класс, русский язык
- Смысловое чтение

На доске записаны слова: ШАРИК. КАТИ. МАШИ. ПЛАЧУ.

У одного ученика получилось 4 слова, у другого – 8, а у третьего – 9. Кто из них прав?

Какие понятия науки о русском языке тебе потребовались при ответе?

Учебная ситуация 4:

- 3 класс, литературное чтение
- Читательская грамотность

Прочитай выразительно стихотворение С.А.Есенина «Черёмуха». Найди эпитеты, которыми Есенин помог услышать, увидеть и ощутить запах и вкус весны.

Ветки _____
_____ ручей
зелень _____
черёмуха _____
роса _____

Учебная ситуация 5:

- 1 класс, математика
- Математическая грамотность

Незнайка и Синеглазка рисовали линии. Все линии, кроме ломаных, нарисовал Незнайка. Помоги друзьям написать красиво цифры. У каждой линии, нарисованной Синеглазкой, напиши два раза цифру 3. У каждой линии, нарисованной Незнайкой, - два раза цифру 2. Раскрась того, кто нарисовал больше линий.

